

Протокол

проведения школьного этапа Всероссийской олимпиады школьников

по географии 8 класс

Максимальное количество баллов - 95

Дата « 02 » октября 2018 г.

МБОУ СОШ № 5

№ п/п	ШИФР	ФИО участника	Класс	Общее количество баллов	Место/статус (победитель или призер)	Дата ознакомления с результатами и подпись
1.	Г8-12	Ониксимова Мария Александровна	8а	51	победитель - I м	05.10 <i>[подпись]</i>
2.	Г8-13	Мажова Ангелина Олеговна	8а	50	призер - II м	05.10 <i>[подпись]</i>
3.	Г8-14	Зястасова Полина Денисовна	8б	18	III м	05.10 <i>[подпись]</i>
4.	Г8-18	Черешнев Александр Романович	8б	17,5	IV м	05.10 <i>[подпись]</i>
5.	Г8-15	Чайкаев Полина Александровна	8а	17,5	V м	05.10 <i>[подпись]</i>
6.	Г8-16	Кунацов Марк Станиславович	8б	16,5	VI м	05.10 <i>[подпись]</i>
7.	Г8-19	Федосеев Никита Александрович	8б	14,0	VII м	05.10 <i>[подпись]</i>
8.						
9.						
10.						
11.						
12.						
13.						
14.						
15.						
16.						
17.						
18.						
19.						

Председатель предметной комиссии: Муорт | Мудобанова |

Члены предметной комиссии: Сон | Муромов |

Шу | Меняров |

Шифр _____

Всероссийская олимпиада школьников по географии
Школьный этап 8 класс 2018 – 2019 учебный год

Теоретический тур

Инструкция по выполнению работы

Внимательно прочитайте каждое задание.
Выберите ответ и на ответе, которые Вы считаете правильными.

Примечание: Использовать для ответа школьные атласы и любые другие справочные пособия нельзя.

Тест 1. Установите соответствие между фамилией путешественника и сделанным им открытием - по 0,5 балла за каждый верный ответ. Максимальная оценка - 2 балла.

Фамилия путешественника	Открытие	Ответ
1) Геродот	А) Открыл путь в Индию вокруг Африки	1б
2) Ф. Магеллан	Б) Достиг островов Центральной Америки	2б
3) Христофор Колумб	В) Составил описание природы и народов Малой Азии, Балканского полуострова и Восточно-Европейской равнины	3б
4) Васко да Гама	Г) Первое кругосветное путешествие	4а

Тест 2. Выберите правильное определение: Воображаемая линия, которая проведена на равном расстоянии от полюсов и делит Землю на два полушария - максимальная оценка - 1 балл.

- а) северный тропик.
 б) горизонталь.
 в) экватор.
 г) южный тропик.

Тест 3. Выберите правильное определение географической карты - максимальная оценка - 1 балл.

- а) изображение на плоскости небольшого участка земной поверхности в уменьшенном виде при помощи условных знаков.
 б) подобие земного шара, по которому можно получить представление о форме нашей планеты.
 в) уменьшенное изображение поверхности Земли или ее частей на плоскости при помощи условных знаков.

Тест 4. Что и изображают на физических картах - максимальная оценка - 1 балл.

- а) страны мира, их границы и столицы.
 б) рельеф различных территорий, реки, озера, города.
 в) очертания материков, морей, озер, рек, местоположение городов.
 г) размещение, плотность и миграцию населения.

I - 28
 II - 23
 III - 51

7812

Тест 5. В истории географии имели место 7 этапов, каждому из которых соответствуют выдающиеся события. Установите соответствие - по 0,5 балла за каждый верный ответ. Максимальная оценка - 3,5 балла.

Географический этап	Выдающиеся события этапа	Ответ
1 Доантичная география	а) Викари и Габриели судно с китом и лосями на берегах Северной Америки	1а
2 Английская география	б) Составлена первая карта с использованием масштаба, параллелей и меридианов	2б
3 Раннее средневековье	в) Создано учение о циркуляции атмосферы	3а
4 Эпоха Великих географических открытий	г) Северная экспедиция нанесла на карту северные и северо-восточные берега Гривии	4г
5 Эпоха первых экспедиций	д) Открытие Антарктиды	5д
6 Время научных исследований	е) Первое кругосветное путешествие	6е
7 Современная эпоха	ж) Первое плавание вокруг Африки	7ж

3,5

Тест 6. Какое время года в Антарктиде, когда земная ось обращена к солнцу северной стороной - максимальная оценка - 1 балл.

- а) зима.
 б) весна.
 в) осень.
 г) лето.

Тест 7. Самая большая планета Солнечной системы - максимальная оценка 1 балл.

- а) Юпитер.
 б) Сатурн.
 в) Уран.
 г) Земля.

Тест 8. Установите соответствие численного масштаба именованному - по 0,5 балла за каждый верный ответ. Максимальная оценка - 1,5 балла.

Именованный масштаб	Численный масштаб	ответ
1 в 1 см 150 м	а) 1:15000	1б 2б 3б
2 в 1 см 150 м	б) 1:1500000	
3 в 1 см 150 км	в) 1:150	

1,5

Тест 9. Расстояние между пунктами на изображении масштаба 1:100 составляет 5 см, каково расстояние между этими пунктами на местности в километрах - максимальная оценка - 1 балл.

- а) 5 км.
 б) 0,5 км.
 в) 50 км.
 г) 500 км.

Вр. км. - 0,5 км
 Чел. км. - 0,5 км
 Шт. - 0,5 км

Тест 10. Определите, какой тип погоды - максимальная оценка - 1 балл

- а) циклональный.
 - б) антициклональный.
 - в) холодного фронта
- описан в стихотворении А.С. Пушкина

Мороз и солнце; день чудесный!

*Июль глубыми небесами
Великолепными кюврами
Блестя на солнце снег лежит;
Прозрачный лес один чернеет,
И ель сквозь метель золотист
Пречка подо льдолом блестит*

Тест 11. Какие воздушные массы зимой приносят на территорию России морозную погоду при ясном небе, весной и осенью - заморозки, а летом, достигая южных районов, часто вызывают засуху - максимальная оценка - 1 балл

- а) умеренные воздушные массы.
- б) субарктические воздушные массы.
- в) арктические воздушные массы.
- г) субтропические воздушные массы.

Тест 12. Как называется самый плотный слой атмосферы - максимальная оценка - 1 балл

- а) тропосфера.
- б) стратосфера.
- в) термосфера.
- г) мезосфера.

Тест 13. Ветер, дующий днем с водоемов на сушу - максимальная оценка - 1 балл

- а) пассат.
- б) бриз.
- в) фён.
- г) бора.

Тест 14. Найдите неверные утверждения - по 0,5 балла за каждый верный ответ. Максимальная оценка - 1 балл

- а) живые существа имеют клеточное строение.
- б) литосфера - это воздушная оболочка Земли.
- в) планктон - это пассивно плавающие организмы.
- г) бактерий - многоклеточные организмы.
- д) лава - это излившаяся на поверхность магма.

Тест 15. Установите соответствие между географической оболочкой Земли и ее определением - по 0,5 балла за каждый верный ответ. Максимальная оценка - 2,5 балла

Оболочки Земли	Определение оболочки	Ответ
1. гидросфера	а) почвенная оболочка Земли	1б
2. атмосфера	б) сфера разума	2б
3. литосфера	в) водная оболочка	3б
4. педосфера	г) воздушная оболочка	4б

5. ноосфера

д) каменная оболочка

2,5

Тест 16. Кто из путешественников-естественноиспытателей открыл путь в Индию вокруг

- Африки - максимальная оценка - 1 балл
- а) Магеллан.
- б) Колумб.
- в) Жак Ив Кусто.
- г) Васко да Гама

Тест 17. Линия, соединяющая точки с равной высотой над уровнем моря - это - максимальная оценка - 1 балл

- а) изотерма.
- б) изогипса.
- в) изобара.
- г) параллель.

Тест 18. Прибор для измерения атмосферного давления - максимальная оценка - 1 балл

- а) анемометр.
- б) гиrometer.
- в) барометр.
- г) эхолот

Тест 19. Определите, какую из перечисленных ниже групп материков, островов, полуостровов, морей, заливов и океанов поочередно пересекает экватор с запада на восток - максимальная оценка - 1 балл

- а) Атлантический океан - Африка - Индийский океан - Большие Зондские о-ва - Тихий океан - Южная Америка.
- б) Гренландское море - Норвежское море - Великобритания - Средиземное море - Африка - Атлантический океан.
- в) Атлантический океан - Африка - О-в Мадагаскар - Индийский океан - Австралия - Тихий океан - Южная Америка.
- г) Атлантический океан - Африка - Красное море - Аравийский п-ов - Аравийское море - п-ов Индостан - Бенгальский залив - п-ов Индокитай - Тихий океан - Северная Америка.

Тест 20. Расстояние между Некином и Токно на карте равно 30 см, реально - 1500 км. Определите масштаб карты - максимальная оценка - 1 балл

- а) 1:5 000 000.
- б) 1:500 000.
- в) 1:150 000.
- г) 1:50 000

Тест 21. Выберите группу, в которой последовательно перечисляются природные зоны от Северного полюса к экватору - максимальная оценка - 1 балл

- а) влажные экваториальные леса - сезонно-влажные тропические леса - саванны и редколесья - пустыни и полупустыни - субтропические леса и кустарники - степи и лесостепи - смешанные и широколиственные леса - тайга - тундры и лесотундры - холодные арктические пустыни.
- б) холодные арктические пустыни - тундры и лесотундры - тайга - смешанные и широколиственные леса - лесостепи и степи - полупустыни и пустыни - субтропические

редколесья и дубарники - саванны и редколесья - сезонно-влажные тропические леса - влажные экваториальные леса.

в) Холодные арктические пустыни - тундры и лесотундры - смешанные и широколиственные леса - лесостепи и степи - полупустыни и пустыни - сезонно-влажные тропические леса - влажные экваториальные леса.

Тест 22. В поэме А.С.Пушкина «Медный всадник» есть слова:

И не пуская ни му походу

На штормые небеса.

Одна зоря сжегнет орудуя

Спешишь, друг мой, почтася.

1) О чем пишет А.С.Пушкин?

Белые ночи

2) В каких широтах и подшариях наблюдается? **Сев. полушарии**

3) Выберите два города, где данное явление наблюдается.
Санкт-Петербург, Москва, Сочи, Архангельск, Владивосток, Томск.

Санкт-Петербург

по 0,5 балла за каждый верный ответ. Максимальная оценка - 2,5 балла

Тест 23. Что такое природный комплекс - максимальная оценка - 1 балл

а) часть географической оболочки, заселенная организмами и преобразованная в результате их деятельности.

б) закономерное сочетание компонентов природы на определенной территории.

в) оболочка, образованная в результате взаимодействия верхнего слоя литосферы, всей гидросферы и нижних слоев атмосферы.

Тест 24. «Кто-то заметил, что человек, попавший в эти леса, дважды испытывает острую радость: в первый день, когда, ослепленный их сказочными богатствами, он думает, что попал в рай, и в последний день, когда на грани безумства он наконец удирает из этого «зеленого ада». Выберите из предложенных вариантов о какой природной зоне писал польский ученый А.Фидлер - максимальная оценка - 1 балл

а) сезонно-влажные тропические леса.

б) влажные экваториальные леса.

в) таежные леса

Тест 25. Все природные зоны можно разделить на лесные и безлесные. В благоприятных условиях (при оптимальном соотношении тепла и влаги) развивается пышная древесная растительность. Объясните, почему деревья не растут в степях и тундрах. Перечислите, что там растет - по 0,5 балла за каждый верный ответ. Максимальная оценка - 2 балла

В степях деревья не растут, потому что **мало влаги**

В тундре деревья не растут, потому что **холодно**

В степях растет **травы** В тундре растет **лихи, лишайники**

Тест 26. Во время одного из выступлений В.В.Докучаев (геолог по образованию) сказал: «Прошу извинения, что несколько дольше, чем рассчитывал, остановился на по это потому, что последний для России дороже всякой нефти, всякого каменного угля, дороже золотых и железных руд: в нем вековечное неисчерпаемое русское богатство». О чем говорил В.В. Докучаев - максимальная оценка - 1 балл

о чернозем

Тест 27. Первым из европейцев достиг побережья Австралии - максимальная оценка - 1 балл

а) голландец А.Тасман

б) испанец Х.Колумб

в) англичанин Дж.Кук

г) португалец Васко да Гама

Тест 28. Почему моря у западных и северо-западных берегов Евразии не замерзают - максимальная оценка - 1 балл

а) проходят тропики

б) протекает Гольфстрим

в) Северо-Атлантическое течение несет теплые воды из тропических широт

г) протекает Куро시오

Тест 29. Что считают Новым светом - максимальная оценка - 1 балл

а) Африку

б) Азию

в) Америку

г) Европу

Тест 30. Самым верхним слоем океанической земной коры является - максимальная оценка - 1 балл

а) базальтовый

б) гранитный

в) песчаный

г) осадочный

Максимальное количество - 38 баллов

Всероссийская олимпиада школьников по географии
Школьный этап 8 класс 2018 – 2019 учебный год

Аналитический тур

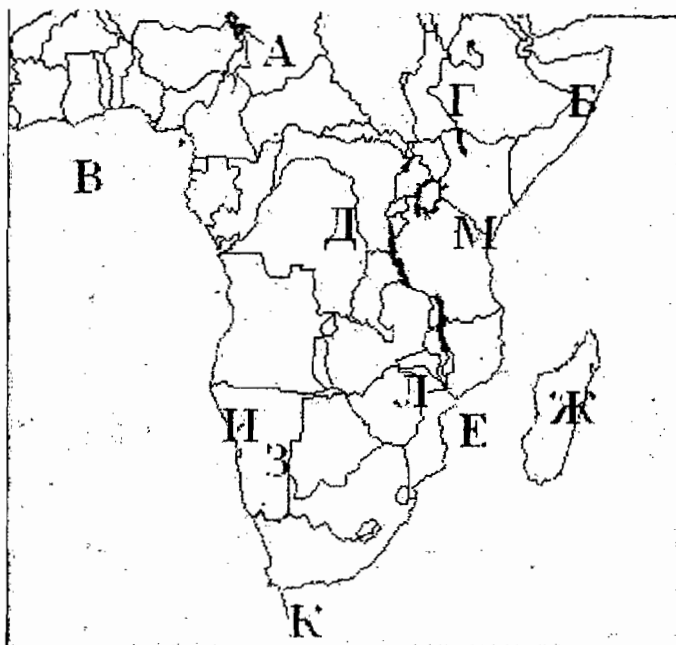
Инструкция по выполнению работы

Внимательно прочитайте каждое задание.

Выберите ответ или ответы, которые Вы считаете правильными.

Примечание. Использовать для ответа школьные атласы и любые другие справочные пособия нельзя.

Задание 1. Впишите названия указанных буквами географических объектов и понятий - по 1 баллу за каждый верно указанный объект и понятие. Максимальная оценка - 12 баллов



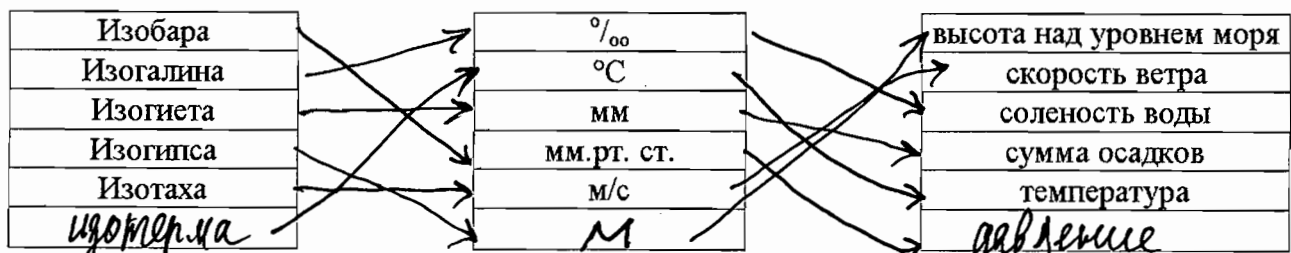
	Понятие	Объект
А	Озеро	<i>Байкал</i>
Б	Полуостров	<i>Аравийский</i>
В	Залив	<i>Бискайский</i>
Г	Нагорье	/
Д	Тип климата	/
Е	Пролив	/
Ж	Жители острова	/
З	Растительный эндемик	/
И	Пустыня	/
К	Мыс	/
Л	Река	<i>Нил</i>
М	Вулкан	/

12

Задание 2. Почему древние египтяне поклонялись Нилу как доброму богу, а жители Междуречья считали Евфрат и особенно Тигр злыми богами? Ответ обоснуйте - максимальная оценка 8 баллов

8

Задание 3. Соединив линиями слова, составьте тройки «изолиния - единица измерения - величина». Впишите недостающие элементы и найдите для каждого из них соответствующую пару. Как обычно называют изогипсу? - по 1 баллу за каждый верный ответ. Максимальная оценка - 13 баллов



ИЗОЛИНИЯ	ЕДИНИЦА ИЗМЕРЕНИЯ	ВЕЛИЧИНА
Изобара		
Изогалина		
Изогиета		

2
Муниципальный этап всероссийской олимпиады школьников по географии
Ханты-Мансийский автономный округ - Югра
2011 - 2012 учебный год
8 класс

Изогипса		
Изотаха		

Изогипсу обычно называют горизонталь

13

Задание 4. В печати широко обсуждается проблема глобального потепления климата. А какие проблемы может вызвать глобальное похолодание. Ответ обоснуйте - по 2 балла за каждый верный ответ. Максимальная оценка - 14 баллов

14

Задание 5. Вам предложены некоторые субъекты Российской Федерации. Некоторые из них являются соседями Ханты-Мансийского автономного округа - Югры. Заполните предложенную таблицу буквами, соответствующими названиям этих субъектов - по 1 балла за каждый верный ответ. Максимальная оценка - 10 баллов

- | | |
|------------------------------|------------------------------------|
| а) Свердловская область | е) Ямало-Ненецкий автономный округ |
| б) Республика Коми | ж) Омская область |
| в) Томская область | з) Красноярский край |
| г) Ненецкий автономный округ | и) Челябинская область |
| д) Тюменская область | к) Пермский край |

Являются соседями	а	б	в	г	е	з
Не являются соседями	и	ж	к			

10

Общее количество баллов - 57 баллов

Шифр _____

Всероссийская олимпиада школьников по географии
Школьный этап 8 класс 2018 - 2019 учебный год

Теоретический тур

Инструкция по выполнению работы

Внимательно прочитайте каждое задание.
Выберите ответ или ответы, которые Вы считаете правильными.

Примечание: Нельзя использовать для ответа школьные атласы и любые другие справочные пособия не имея.

Тест 1. Установите соответствие между фамилией путешественника и сделанным им открытием - по 0,5 балла за каждый верный ответ. Максимальная оценка - 2 балла

Фамилия путешественника	Открытие	Ответ
1. Геродот	А. Открыл путь в Индию вокруг Африки	б
2. Ф. Магеллан	Б. Достиг островов Центральной Америки	в
3. Христофор Колумб	В. Составил описание природы и народов Малой Азии, Балканского полуострова и Восточно-Европейской равнины	а
4. Васко да Гама	Г. Первое кругосветное путешествие	г

Тест 2. Выберите правильное определение: Воображаемая линия, которая проведена на равном расстоянии от полюсов и делит Землю на два полушария - максимальная оценка - 1 балл

- а) северный тропик.
б) горизонталь.
 в) экватор.
г) южный тропик

Тест 3. Выберите правильное определение географической карты - максимальная оценка - 1 балл

- а) изображение на плоскости небольшого участка земной поверхности в уменьшенном виде при помощи условных знаков.
б) подобие земного шара, по которому можно получить представление о форме нашей планеты.
 в) уменьшенное изображение поверхности Земли или ее частей на плоскости при помощи условных знаков

Тест 4. Что изображают на физических картах - максимальная оценка - 1 балл

- а) страны мира, их границы и столицы.
 б) рельеф различных территорий, реки, озера, города.
в) очертания материков, морей, озер, рек, местоположение городов.
г) размещение, плотность и мнравно населения.

Г 813

Тест 5. В истории географии выделяют 7 этапов, каждому из которых соответствуют выдающиеся события. Установите соответствие - по 0,5 балла за каждый верный ответ. Максимальная оценка - 3,5 балла

Географический этап	Выдающиеся события этапа	Ответ
1. Древняя география	а) Викинг в походе на судно с китом и достигли берегов Северной Америки	а
2. Античная география	б) Составлена первая карта с использованием масштаба, параллелей и меридианов	б
3. Раннее средневековье	в) Создано учение о циркуляции атмосферы	в
4. Эпоха Великих географических открытий	г) Северная экспедиция нанесла на карту северные и северо-восточные берега Евразии	г
5. Эпоха первых экспедиций	д) Открытие Антарктиды	д
6. Время научных исследований	е) Первое кругосветное путешествие	ж
7. Современная эпоха	ж) Первое плавание вокруг Африки	з

3,5

Тест 6. Какое время года в Антарктиде, когда земная ось обращена к солнцу северной стороной - максимальная оценка - 1 балл

- а) зима.
б) весна.
в) осень.
г) лето

Тест 7. Самая большая планета Солнечной системы - максимальная оценка 1 балл

- а) Юпитер.
б) Сатурн.
в) Уран.
г) Земля

Тест 8. Установите соответствие численной и именованному - по 0,5 балла за каждый верный ответ. Максимальная оценка - 1,5 балла

Именованный масштаб	Численный масштаб	ответ
1. в 1 см 150 см	а) 1:15000	а
2. в 1 см 150 м	б) 1:15000000	б
3. в 1 см 150 км	в) 1:150	в

1,5

Тест 9. Расстояние между пунктами на изображении масштаба 1:100 составляет 5 см, каково расстояние между этими пунктами на местности - максимальная оценка - 1 балл

- а) 5 км.
 б) 0,5 км.
в) 50 км.
г) 500 км.

I - 28
II - 22
50

Стр. колена - Мухоморова
М. колена: М - Чирков,
Н - Макарова

Тест 10. Определите, какой тип погоды - максимальная оценка - 1 балл

- а) циклональной,
 б) антициклональной,
 в) холодного фронта
 описан в стихотворении А.С. Пушкина

Мороз и солнце; день чудесный!

*Ночь соубылали небесаши
 Великолетияли ковралли.
 Блестя на солнце снег лежит.
 Праздничный лес в доли чернеет.
 Ночь сквозь швей зеленеет
 И речка под льдом блещит*

Тест 11. Какие воздушные массы зимой приносят на территорию России морозную погоду при ясном небе, весной и осенью - заморозки, а летом, достигая южных районов, часто вызывают засуху - максимальная оценка - 1 балл

- а) умеренные воздушные массы,
 б) субарктические воздушные массы,
 в) арктические воздушные массы,
 г) субтропические воздушные массы.

Тест 12. Как называется самый плотный слой атмосферы - максимальная оценка - 1 балл

- а) тропосфера,
 б) стратосфера,
 в) термосфера,
 г) мезосфера.

Тест 13. Ветер, дующий днем с водоемов на сушу - максимальная оценка - 1 балл

- а) пассат,
 б) бриз,
 в) фен,
 г) бора.

Тест 14. Найдите неверные утверждения - по 0,5 балла за каждый верный ответ. Максимальная оценка - 1 балл

- а) живые существа имеют клеточное строение,
 б) литосфера - это воздушная оболочка Земли,
 в) планктон - это пассивно плавающие организмы,
 г) бактерии - многоклеточные организмы,
 д) лава - это изливающаяся на поверхность магма.

Тест 15. Установите соответствие между географической оболочкой Земли и ее определением - по 0,5 балла за каждый верный ответ. Максимальная оценка - 2,5 балла

Оболочки Земли	Определение оболочки	Ответ
1. литосфера	а) почвенная оболочка Земли	в
2. атмосфера	б) сфера разума	г
3. литосфера	в) водная оболочка	а
4. педосфера	г) воздушная оболочка	б

5. ноосфера

д) каменная оболочка

8
2,5

Тест 16. Кто из путешественников-исследователей открыл путь в Индию вокруг Африки - максимальная оценка - 1 балл

- а) Магеллан,
 б) Колумб,
 в) Жак Ив Кусто,
 г) Васко да Гама

Тест 17. Линия, соединяющая точки с равной высотой над уровнем моря - это - максимальная оценка - 1 балл

- а) изотерма,
 б) изогипса,
 в) изобара,
 г) параллель.

Тест 18. Прибор для измерения атмосферного давления - максимальная оценка - 1 балл

- а) анемометр,
 б) гириометр,
 в) барометр,
 г) хологод

Тест 19. Определите, какую из перечисленных ниже групп материков, островов, полуостровов, морей, заливов и океанов поочередно пересекает экватор с запада на восток - максимальная оценка - 1 балл

- а) Атлантический океан - Африка - Индийский океан - Большие Зондские о-ва - Тихий океан - Южная Америка,
 б) Ирландское море - Норвежское море - Великобритания - Средиземное море - Африка - Атлантический океан,
 в) Атлантический океан - Африка - О-в Мадагаскар - Индийский океан - Австралия - Тихий океан - Южная Америка,
 г) Атлантический океан - Африка - Красное море - Аравийский п-ов - Аравийское море - п-ов Индостан - Бенальский залив - п-ов Индокитай - Тихий океан - Северная Америка.

Тест 20. Расстояние между Пекином и Токио на карте равно 30 см, реально - 1500 км. Определите масштаб карты - максимальная оценка - 1 балл

- а) 1:5 000 000,
 б) 1:500 000,
 в) 1:150 000,
 г) 1:50 000

Тест 21. Выберите 1 группу, в которой последовательно перечисляются природные зоны от Северного полюса к экватору - максимальная оценка - 1 балл

- а) влажные экваториальные леса - сезонно-влажные тропические леса - саванны и редколесья - пустыни и полупустыни - субтропические леса и кустарники - степи и лесостепи - смешанные и широколиственные леса - тайга - тундры и лесотундры - холодные арктические пустыни,
 б) холодные арктические пустыни - тундры и лесотундры - тайга - смешанные и широколиственные леса - лесостепи и степи - полупустыни и пустыни - субтропические

рекопесья и кустарники - саванны и редколесья - сезонно-влажные тропические леса - влажные экваториальные леса.
в) холодные арктические пустыни - тундры и лесотундры - смешанные и широколиственные леса - лесостепи и степи - полупустыни и пустыни - сезонно-влажные тропические леса - влажные экваториальные леса.

Тест 22. В поэме А.С.Пушкина «Метель» есть слова:

И не пускай туманную

На вихоры небеса.

Снова зря съездишь орудья:

Спят, давайчи потиха

1) О чем пишет А.С.Пушкин?

..... белые ночи

2) В каких широтах и полушариях наблюдается?

3) Выберите два города, где данное явление наблюдается.

Санкт-Петербург, Москва, Сочи, Архангельск, Владивосток, Гомель

по 0,5 балла за каждый верный ответ. Максимальная оценка - 2,5 балла

Тест 23. Что такое природный комплекс - максимальная оценка - 1 балл

а) часть географической оболочки, заселенная организмами и преобразованная в результате их деятельности.

б) закономерное сочетание компонентов природы на определенной территории.

в) оболочка, образованная в результате взаимодействия верхнего слоя литосферы, всей гидросферы и нижних слоев атмосферы

Тест 24. «Кто-то заметил, что человек, попавший в эти леса, дважды испытывает острую радость: в первый день, когда, ослепленный их сказочными богатствами, он думает, что попал в рай, и в последний день, когда на грани безумства он наконец удирает из этого «зеленого ада». Выберите из предложенных вариантов о какой природной зоне писал польский ученый А.Фидлер - максимальная оценка - 1 балл

а) сезонно-влажные тропические леса.

б) влажные экваториальные леса.

в) таежные леса

Тест 25. Все природные зоны можно разделить на лесные и безлесные. В благоприятных условиях (при оптимальном соотношении тепла и влаги) развивается пышная древесная растительность. Объясните, почему деревья не растут в степях и тундрах. Перечислите, что там растет - по 0,5 балла за каждый верный ответ. Максимальная оценка - 2 балла

В степях деревья не растут, потому что мало влаги

В тундре деревья не растут, потому что мало тепла

В степях растет травы В тундре растет мхи, лишайники

Тест 26. Во время одного из выступлений В.В.Докучаев (геолог по образованию) сказал: «Прошу извинения, что несколько дольше, чем рассчитывал, остановился на по это потому, что последний для России дороже всякой нефти, всякого каменного угля, дороже золотых и железных руд; в нем вековечное неистощимое русское богатство». О чем говорил В.В. Докучаев - максимальная оценка - 1 балл

Тест 27. Первым из европейцев достиг побережья Австралии - максимальная оценка - 1 балл

а) голландец В.Тасман

б) испанец Х.Колумб

в) англичанин Дж.Кук

г) португалец Васко да Гама

Тест 28. Почему моря у западных и северо-западных берегов Евразии не замерзают - максимальная оценка - 1 балл

а) проходят течения

б) протекает Гольфстрим

в) Северо-Атлантическое течение несет теплые воды из тропических широт

г) протекает Курошо

Тест 29. Что считают Новым светом - максимальная оценка - 1 балл

а) Африку

б) Азию

в) Америку

г) Европу

Тест 30. Самым верхним слоем океанической земной коры является - максимальная оценка - 1 балл

а) базальтовый

б) гранитный

в) песчаный

г) осадочный

Максимальное количество - 38 баллов

Всероссийская олимпиада школьников по географии
Школьный этап 8 класс 2018 – 2019 учебный год

Аналитический тур

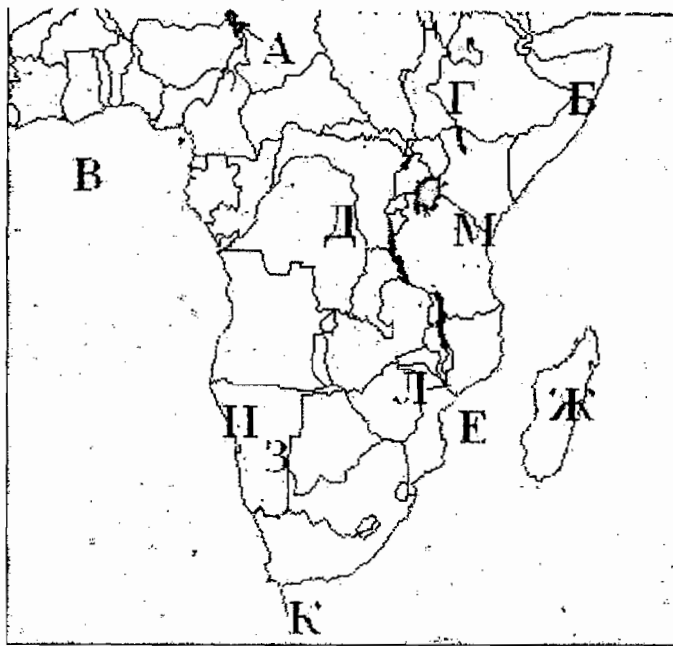
Инструкция по выполнению работы

Внимательно прочитайте каждое задание.

Выберите ответ или ответы, которые Вы считаете правильными.

Примечание. Использовать для ответа школьные атласы и любые другие справочные пособия нельзя.

Задание 1. Впишите названия указанных буквами географических объектов и понятий - по 1 баллу за каждый верно указанный объект и понятие. Максимальная оценка - 12 баллов



	Понятие	Объект
А	Озеро	Хайль
Б	Полуостров	Сомали
В	Залив	Нижний
Г	Нагорье	
Д	Тип климата	экваториальный
Е	Пролив	Исальский
Ж	Жители острова	Ж
З	Растительный эндемик	
И	Пустыня	
К	Мыс	Жоанни
Л	Река	Амбеджи
М	Вулкан	Килиманджаро

85

12

Задание 2. Почему древние египтяне поклонялись Нилу как доброму богу, а жители Междуречья считали Евфрат и особенно Тигр злыми богами? Ответ обоснуйте - максимальная оценка 8 баллов
 Нил часто поднимался, воевал из чрево и затанивал уронсай.

8

Задание 3. Соединив линиями слова, составьте тройки «изолиния - единица измерения - величина». Впишите недостающие элементы и найдите для каждого из них соответствующую пару. Как обычно называют изогипсу? - по 1 баллу за каждый верный ответ. Максимальная оценка - 13 баллов

Изобара		‰		высота над уровнем моря
Изогалина		°С		скорость ветра
Изогиета		мм		соленость воды
Изогипса		мм.рт. ст.		сумма осадков
Изотаха		м/с		температура
				давление

ИЗОЛИНИЯ	ЕДИНИЦА ИЗМЕРЕНИЯ	ВЕЛИЧИНА
Изобара		
Изогалина		
Изогиета		

2
Муниципальный этап всероссийской олимпиады школьников по географии
Ханты-Мансийский автономный округ - Югра
2011 - 2012 учебный год
8 класс

Изогипса		
Изогипсы		

Изогипсу обычно называют _____

13

Задание 4. В печати широко обсуждается проблема глобального потепления климата. А какие проблемы может вызвать глобальное похолодание. Ответ обоснуйте - по 2 балла за каждый верный ответ. Максимальная оценка - 14 баллов

14

Задание 5. Вам предложены некоторые субъекты Российской Федерации. Некоторые из них являются соседями Ханты-Мансийского автономного округа - Югры. Заполните предложенную таблицу буквами, соответствующими названиям этих субъектов - по 1 балла за каждый верный ответ. Максимальная оценка - 10 баллов

- | | |
|------------------------------|------------------------------------|
| а) Свердловская область | е) Ямало-Ненецкий автономный округ |
| б) Республика Коми | ж) Омская область |
| в) Томская область | з) Красноярский край |
| г) Ненецкий автономный округ | и) Челябинская область |
| д) Тюменская область | к) Пермский край |

Являются соседями	а	б	в	г	д	е	ж
Не являются соседями	з	и	к	л	м	н	о

а б в г д е ж

10

Общее количество баллов - 57 баллов